

3年

算 数

1. 次の計算をしなさい。

(1)  $246 + 18 =$

(2)  $370 - 173 =$

(3)  $0.5 + 2.6 =$

(4)  $1 - 0.4 =$

(5)  $\frac{2}{7} + \frac{3}{7} =$

(6)  $\frac{5}{9} - \frac{2}{9} =$

(7) 
$$\begin{array}{r} 25 \\ \times 43 \\ \hline \end{array}$$

(8) 
$$\begin{array}{r} 307 \\ \times 9 \\ \hline \end{array}$$

(9)  $7 \overline{)84}$

(10)  $4 \overline{)116}$

2. 次の□にあてはまる数を書きなさい。

(1)  $3 \text{ kg } 500 \text{ g} = \square \text{ g}$

(2)  $2800 \text{ g} = \square \text{ kg } \square \text{ g}$

(3)  $5 \text{ km } 30 \text{ m} = \square \text{ m}$

(4)  $2600 \text{ m} = \square \text{ km } \square \text{ m}$

(5)  $2 \text{ 分 } 30 \text{ 秒} = \square \text{ 秒}$

(6)  $110 \text{ 分} = \square \text{ 時間 } \square \text{ 分}$

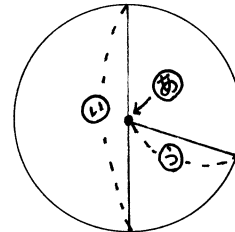
(7) 午前10時から4時間あとは  時です。

(「午前」か「午後」かもかきなさい。)

3.

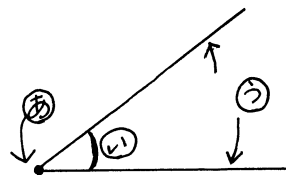
(1) 右の円で、㉠、㉡、㉢、はそれぞれ何といますか。

答 ㉠ \_\_\_\_\_ ㉡ \_\_\_\_\_ ㉢ \_\_\_\_\_



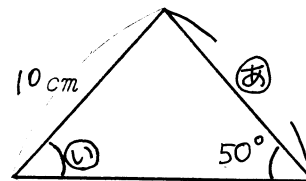
(2) 右の図で、㉠、㉡、㉢、はそれぞれ何といますか。

答 ㉠ \_\_\_\_\_ ㉡ \_\_\_\_\_ ㉢ \_\_\_\_\_



(3) 右の図は二等辺三角形です。㉠の長さ、㉡の角の大きさはいくらですか。

答 ㉠の長さ \_\_\_\_\_ ㉡の角の大きさ \_\_\_\_\_



4. ノートが60さつあります。これを8人で同じ数ずつ分けると、1人分は何さつになって、何さつあまりますか。式もかきなさい。

式 \_\_\_\_\_ 答 \_\_\_\_\_

5. 千円さつ1枚持って買い物に行きました。1本75円のジュースを1ダース買うとおつりはいくらですか。式もかきなさい。

式 \_\_\_\_\_ 答 \_\_\_\_\_