


1학년

산수

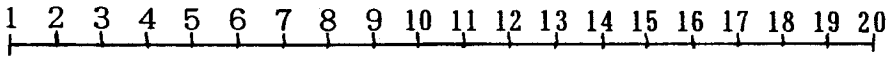
1. 아래 그림 중에서 7개에 ○를 치세요.



2. 왼쪽에서 5번째 사과에 ○를 치세요.



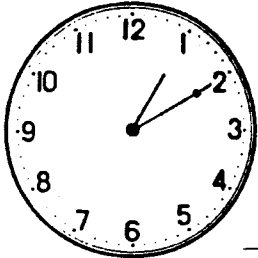
3. 아래의 자를 보고 답하세요.



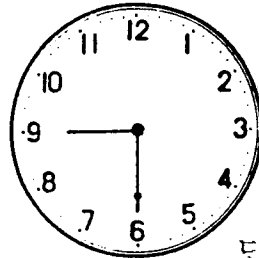
(1) 10보다 3이 작은 수는 얼마입니까? 답; _____

(2) 10보다 6이 큰 수는 얼마입니까? 답; _____

4. 몇시몇분입니까?



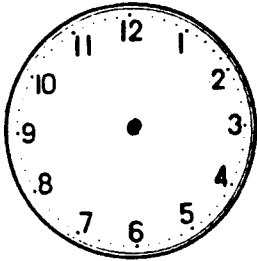
답; _____



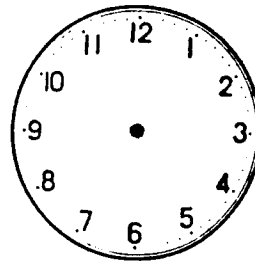
답; _____

5. 시계에 바늘을 그려 넣으세요.

3:30



9:50



6. 식을 쓰고, 계산을 하세요.

(1) 빨간 색종이가 8장, 파란 색종이가 5장 있습니다.
모두 몇장 있습니까?

식;

답;

(2) 과자가 10개 있습니다. 4개 먹고, 또 3개를
먹었습니다. 나머지는 몇개입니까?

식;

답;

(3) 게임을 하였습니다. 첫번째가 6점이었고, 두번째는
0점이었습니다. 합해서 몇점입니까?

식;

답;

7. □에 들어 가는 수는 얼마입니까?

(1) 100은 □이 10모인 수입니다.

(2) 10이 5이고 1이 3이면, □입니다.

8. 계산을 하세요.

(1) $3 + 5 =$

(2) $8 + 6 =$

(3) $25 + 4 =$

(4) $16 - 9 =$