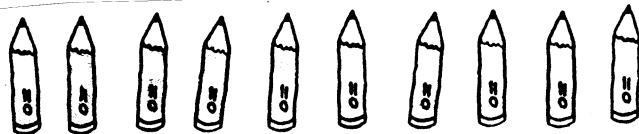


1年

さんすう

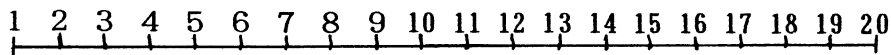
1. したのエンピツのうち、7ほんに○をつけなさい。



2. ひだりから5ばんめのりんごに○をつけなさい。




3. かずのせんをみてこたえなさい。




(1) 10より3ちいさいかずはいくつですか。 こたえ

(2) 10より6おおきいかずはいくつですか。 こたえ

4. なんじなんぶんですか。



こたえ





こたえ

5. とけいにはりをかきなさい。

9:50

3:30



6. しきにかいて、けいさんしなさい。

- (1) あかい、いろがみが、8まい、あおい、いろがみが、5まいあります。
ぜんぶでなんまいありますか。

しき

こたえ

- (2) おかしが10こありました。4こたべて、また3こたべました。
のこりはなんこですか。

しき

こたえ

- (3) ゲームをしました。1かいめに、6てんとりました。2かいめは、0てんでした。
あわせてなんてんですか。

しき

こたえ

7. □に、はいるすうじは、いくつですか。

- (1) 100は、を10あつめたかずです。

- (2) 10が5つと、1が3つで、です。

8. けいさんをしなさい。

(1) $3 + 5 =$

(2) $8 + 6 =$

(3) $25 + 4 =$

(4) $16 - 9 =$