

1. 计算

(1) $246 + 18 =$

(2) $370 - 173 =$

(3) $0.5 + 2.6 =$

(4) $1 - 0.4 =$

(5) $\frac{2}{7} + \frac{3}{7} =$

(6) $\frac{5}{9} - \frac{2}{9} =$

(7)
$$\begin{array}{r} 25 \\ \times 43 \\ \hline \end{array}$$

(8)
$$\begin{array}{r} 307 \\ \times 9 \\ \hline \end{array}$$

(9) $7 \overline{)84}$

(10) $4 \overline{)116}$

2. 在以下的□内填入适当的数字.

(1) $3 \text{ kg } 500 \text{ g} = \square \text{ g}$

(2) $2800 \text{ g} = \square \text{ kg } \square \text{ g}$

(3) $5 \text{ km } 30 \text{ m} = \square \text{ m}$

(4) $2600 \text{ m} = \square \text{ km } \square \text{ m}$

(5) $2 \text{ 分 } 30 \text{ 秒} = \square \text{ 秒}$

(6) $110 \text{ 分} = \square \text{ 时 } \square \text{ 分}$

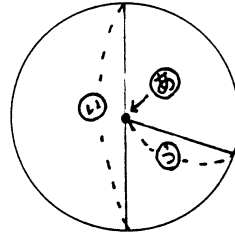
(7)上午10时过了4个小时是 时。

(请写明上午还是下午)

3.

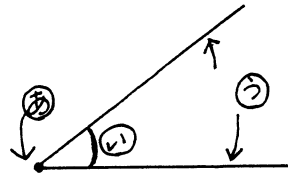
(1) 右面的圆中, ㉑、㉒、㉓ 分别叫什么? 。

答 ㉑ _____ ㉒ _____ ㉓ _____



(2) 右图中, ㉑、㉒、㉓ 分别叫什么? いますか。

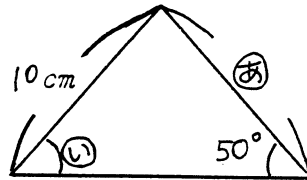
答 ㉑ _____ ㉒ _____ ㉓ _____



(3) 右图是一个等腰三角形, 请回答㉑有多长,

㉒的角度是多大?

答: ㉑的长度 _____ ㉒的角度 _____



4. 一共有60册本子。如果要分给8个人, 每个人册数相同, 那么一个人应分几册? 还剩几册? 请写出式子并计算。

式子:

答:

5. 拿着一张1千元的钱去买东西。买了一打1瓶75元的饮料, 找回多少钱? 请写出式子并计算。

式子:

答: